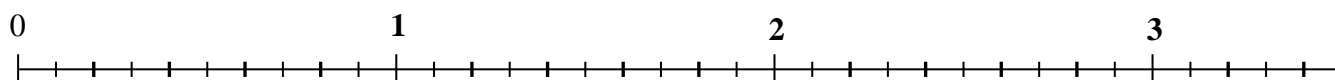
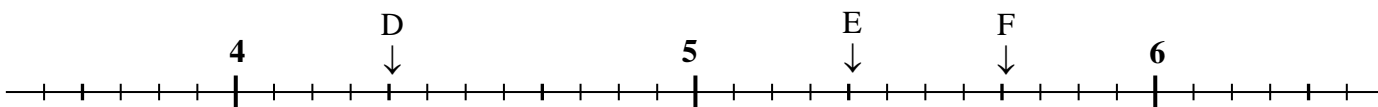


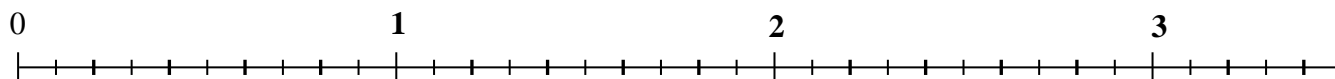
1. Place le point A qui correspond à  $2 + \frac{3}{5}$ , le point B qui correspond à  $\frac{17}{10}$  et le point C qui correspond à  $2 + \frac{1}{2}$ .



2. Trouve les écritures qui correspondent aux points D, E et F.



1. Place le point A qui correspond à  $2 + \frac{3}{5}$ , le point B qui correspond à  $\frac{17}{10}$  et le point C qui correspond à  $2 + \frac{1}{2}$ .



2. Trouve les écritures qui correspondent aux points D, E et F.

